

Esercizio -1: essersi iscritti correttamente per svolgere questa prova.

Esercizio 0: Scrivere correttamente nome, cognome, matricola e posizione prima di svolgere ogni altro esercizio.

Esercizio 1:

Sia data una struttura dati con 6 chiamate:

```
void enqueue1(T val)          T dequeue1(void)          T dequeue1enqueue2(T val)
void enqueue2(T val)          T dequeue2(void)          T dequeue2enqueue1(T val)
```

La struttura contiene due buffer limitati (enqueue1 e dequeue1 operano sul primo, enqueue2 dequeue2 sul secondo). Entrambi i buffer contengono al massimo MAX elementi. L'operazione dequeue1enqueue2 contestualmente inserisce un elemento sulla coda2 e ne toglie uno dalla coda1 restituendolo. (La dequeue2enqueue1 opera in modo duale).

Tutte le chiamate devono essere realizzate per operare in modo atomico (interamente o niente), in particolare le due chiamate dequeue2enqueue1 e dequeue1enqueue2 non possono eseguire una sola delle due operazioni e attendere per effettuare l'altra appena possibile.

Scrivere un monitor DBB (double bounded buffer) che realizza la struttura dati.

Esercizio 2 (semafori ennari):

Un semaforo ennario di valore massimo MAX e' un tipo di dato astratto con le seguenti due primitive:

P(S) decrementa di 1 il valore del semaforo, eventualmente sbloccando il primo processo (in ordine temporale di richiesta) ora in grado di fare una V; l'operazione e' bloccante nel caso in cui il nuovo valore sia < 0

V(S,n) incrementa atomicamente di n 1 il valore del semaforo; e' bloccante nel caso in cui il nuovo valore sia >= MAX

1) Implementare un semaforo ennario usando un semaforo standard.


2) Mostrare una situazione nella quale un processo che usi semafori ennari vada in starvation.

Esercizio 3:

Si consideri il programma seguente:

```
main()
{
    semaphore s1(1);
    semaphore s2(1);
    int n=1;
    parbegin {
        register int i;
        for (i=0;i<3;i++) {
            s1.P();
            n+=1;
            s2.V();
        }
    }
    //
    {
        register int i;
        for (i=0;i<3;i++) {
            s2.P();
            n*=2;
            s1.V();
        }
    }
    printf("%d\n",n);
}
```

Mostrare tutti i possibili valori di output del programma, corredando la risposta con opportuna spiegazione del procedimento seguito.



UNIVERSITA' DEGLI STUDI DI BOLOGNA - CORSO DI LAUREA IN INFORMATICA
CORSO DI SISTEMI OPERATIVI - ANNO ACCADEMICO 2003/2004
CONCORRENZA - 21 Febbraio 2006

Esercizio -1: essersi iscritti correttamente per svolgere questa prova.

Esercizio 0: Scrivere correttamente nome, cognome, matricola e posizione prima di svolgere ogni altro esercizio.

Esercizio 1:

Sia data una struttura dati con 6 chiamate:

```
void enqueue1(T val)           T dequeue1(void)           T enqueue2dequeue1(T val)
void enqueue2(T val)           T dequeue2(void)           T enqueue1dequeue2(T val)
```

La struttura contiene due buffer limitati (enqueue1 e dequeue1 operano sul primo, enqueue2 dequeue2 sul secondo).

Entrambi i buffer contengono al massimo MAX elementi. L'operazione dequeue1enqueue2 contestualmente inserisce un elemento sulla coda2 e ne toglie uno dalla coda1 restituendolo. (La dequeue2enqueue1 opera in modo duale).

Tutte le chiamate devono essere realizzate per operare in modo atomico (interamente o niente), in particolare le due chiamate dequeue2enqueue1 e dequeue1enqueue2 non possono eseguire una sola delle due operazioni e attendere per effettuare l'altra appena possibile.

Scrivere un monitor DBB (double bounded buffer) che realizza la struttura dati.

Esercizio 2 (Semafori ennari):

Un semaforo ennario di valore massimo MAX e' un tipo di dato astratto con le seguenti due primitive:

P(S,n) decrementa atomicamente di n il valore del semaforo; e' bloccante nel caso in cui il nuovo valore sia < 0

V(S) incrementa di 1 il valore del semaforo, eventualmente sbloccando il primo processo (in ordine temporale di richiesta) ora in grado di fare una P; l'operazione e' bloccante nel caso in cui il nuovo valore sia = MAX

1) Implementare un semaforo ennario usando un semaforo standard.


2) Mostrare una situazione nella quale un processo che usi semafori ennari vada in starvation.

Esercizio 3:

Si consideri il programma seguente:

```
main()
{
    semaphore s1(1);
    semaphore s2(1);
    int n=0;
    parbegin {
        register int i;
        for (i=0;i<3;i++) {
            s1.P();
            n+=2;
            s2.V();
        }
    }
    //
    {
        register int i;
        for (i=0;i<3;i++) {
            s2.P();
            n*=2;
            s1.V();
        }
    }
    printf("%d\n",n);
}
```

Mostrare tutti i possibili valori di output del programma, corredando la risposta con opportuna spiegazione del procedimento seguito.



UNIVERSITA' DEGLI STUDI DI BOLOGNA - CORSO DI LAUREA IN INFORMATICA
CORSO DI SISTEMI OPERATIVI - ANNO ACCADEMICO 2003/2004
PARTE GENERALE - 21 Febbraio 2006

Esercizio -1: essersi iscritti correttamente per svolgere questa prova.

Esercizio 0: Scrivere correttamente nome, cognome, matricola e posizione prima di svolgere ogni altro esercizio.

Esercizio 1:

Mostrare un esempio di stato safe per un banchiere multivaluta che inizialmente gestisca due valute e tre processi P1, P2, P3 tale per cui:

- 1) la sequenza P3; P2; P1 sia safe
- 2) il banchiere possa soddisfare immediatamente la richiesta di (5,4) risorse di un nuovo processo P4 che dichiari come massimo numero di risorse richiedibili (5,4)
- 3) il nuovo stato safe raggiunto dal sistema non ammetta P3; P2; P1 come sequenza safe

NOTA BENE: una sequenza safe e' una sequenza usata per determinare che lo stato sia safe (ovvero una "via di fuga"); non e' una sequenza di ulteriori richieste

Esercizio 2:

Sia data la seguente stringa di riferimenti.

7 0 1 2 0 3 0 4 2 3 0 3 2 1 2 0 1 7 0 1

e sia data una memoria con 3 frame.

Si mostri lo stato della memoria usando un algoritmo di rimpiazzamento che operi inizialmente come LRU ma che commuti a LFU al primo page fault e cosi' via si alterni fra LRU a LFU ad ogni context switch.


E' un algoritmo a stack?

Esercizio 3:

Sia x l'ultima e y la penultima cifra del vostro numero di matricola e sia $n = (y*10 + x)\%6$.

Discutere quali effetti comporta sulle funzionalita' e l'efficienza di un sistema operativo l'assenza del meccanismo hardware n:

- 0) DMA
- 1) timer
- 2) MMU
- 3) modalita' supervisore
- 4) reference bit
- 5) TLB



Nome/cognome _____ N. di matricola (10 cifre) _____ Posizione: Riga ____ Col ____

UNIVERSITA' DEGLI STUDI DI BOLOGNA - CORSO DI LAUREA IN INFORMATICA
CORSO DI SISTEMI OPERATIVI - ANNO ACCADEMICO 2003/2004
PARTE GENERALE - 21 Febbraio 2006

Esercizio -1: essersi iscritti correttamente per svolgere questa prova.

Esercizio 0: Scrivere correttamente nome, cognome, matricola e posizione prima di svolgere ogni altro esercizio.

Esercizio 1:

Mostrare un esempio di stato safe per un banchiere multivaluta che inizialmente gestisca due valute e tre processi P1, P2, P3 tale per cui:

- 1) la sequenza P1; P2; P3 sia safe
- 2) il banchiere possa soddisfare immediatamente la richiesta di (2,3) risorse di un nuovo processo P4 che dichiari come massimo numero di risorse richiedibili (2,3)
- 3) il nuovo stato safe raggiunto dal sistema non ammetta P1; P2; P3 come sequenza safe

NOTA BENE: una sequenza safe e' una sequenza usata per determinare che lo stato sia safe (ovvero una "via di fuga"); non e' una sequenza di ulteriori richieste

Esercizio 2:

Sia data la seguente stringa di riferimenti.

7 0 1 2 0 3 0 4 2 3 0 3 2 1 2 0 1 7 0 1

e sia data una memoria con 3 frame.

Si mostri lo stato della memoria usando un algoritmo di rimpiazzamento che operi inizialmente come LFU ma che commuti a LRU al primo page fault e cosi' via si alterni fra LFU a LRU ad ogni context switch.

E' un algoritmo a stack?

Esercizio 3:

Sia x l'ultima e y la penultima cifra del vostro numero di matricola e sia $n = (y*10 + x)\%6$.

Discutere quali effetti comporta sulle funzionalita' e l'efficienza di un sistema operativo l'assenza del meccanismo hardware n:

- 0) DMA
- 1) timer
- 2) MMU
- 3) modalita' supervisore
- 4) reference bit
- 5) TLB

